

Test Date : 02 Sep 2022

Test Slot : Slot 2

Subject : PGQP37-Commerce

Sl. No.1

QBID:1554921

Choose the correct form of verb to fill in the blank.

Knowledge is _____ that we can not know.

- (1) known
- (2) without know
- (3) knowing
- (4) know

निम्नलिखित में से कौन-सा व्यंजन 'महाप्राण' नहीं है ?

- (1) क
- (2) ख
- (3) छ
- (4) ढ

1[Option ID=6601]

2[Option ID=6602]

3[Option ID=6603]

4[Option ID=6604]

Sl. No.2

QBID:1554922

Choose the correct pair of prepositions, in the correct sequence, from among the four options given, to fill in the blanks in the following sentence :

The book was lying _____ the table and the papers were _____ that.

- (1) in; under
- (2) besides; underneath
- (3) above; over
- (4) under; underneath

हिन्दी में कुल कितने सर्वनाम हैं ?

- (1) 9
- (2) 11
- (3) 12
- (4) 13

1[Option ID=6645]

2[Option ID=6646]

3[Option ID=6647]

4[Option ID=6648]

Sl. No.3

QBID:1554923

Pick out the correctly spelt word,

- (1) assiduous
- (2) asiduous
- (3) assidous
- (4) assedious

'अनुस्वार' (अं) के संदर्भ में कौन-सा तथ्य अशुद्ध है ?

- (1) इनके उच्चारण में स्वर की आवश्यकता होती है ।
- (2) अनुस्वार में स्वर पहले आता है ।
- (3) अनुस्वार की गणना स्वर में की जाती है ।
- (4) अनुस्वार ऊपर एक बिन्दी के रूप में लिखा जाता है ।

1[Option ID=6673]

2[Option ID=6674]

3[Option ID=6675]

4[Option ID=6676]

Sl. No.4

QBID:1554924

Identify the correct form of indirect speech of the following sentence.

The teacher said to Arjun, "Go away."

- (1) The teacher requested Arjun to go away.
- (2) Arjun asked the teacher if he could go away.
- (3) The teacher ordered Arjun to go away.
- (4) The teacher told Arjun that he can go away.

नीचे दो कथन दिए गए हैं: एक अभिकथन (Assertion A) के रूप में लिखित है तो दूसरा उसके कारण (Reason R) के रूप में:

अभिकथन A : 'तेंदुआ' देशज शब्द है ।

कारण R : देशज शब्द संस्कृत मूल से निकले हुए नहीं जान पड़ते और उनकी उत्पत्ति का पता नहीं लगता ।

उपरोक्त कथन के आलोक में, नीचे दिए गए विकल्पों में से सबसे उपयुक्त उत्तर का चयन कीजिए ।

- (1) A और R दोनों सही हैं और R, A की सही व्याख्या है
- (2) A और R दोनों सही हैं, लेकिन R, A की सही व्याख्या नहीं है
- (3) A सही है लेकिन R सही नहीं है
- (4) A सही नहीं है लेकिन R सही है

1[Option ID=6677]

- 2[Option ID=6678]
3[Option ID=6679]
4[Option ID=6680]

Sl. No.5

QBID:1554925

Rearrange the following parts of a sentence labeled as PQRS to make a meaningful sentence

P it clearly is no better than

Q having knowledge but

R never having any ideas at all

S lacking the power to express

- (1) RPQS
- (2) QPRS
- (3) QSPR
- (4) SPRQ

नीचे दो कथन दिए गए हैं: एक अभिकथन (Assertion A) के रूप में लिखित है तो दूसरा उसके कारण (Reason R) के रूप में:

अभिकथन A : 'संज्ञा' शब्द का उपयोग वस्तु के लिए नहीं होता, किन्तु वस्तु के नाम के लिए होता है ।

कारण R : जिस कागज पर पुस्तक छपती है वह कागज संज्ञा नहीं, पदार्थ है ।

उपरोक्त कथन के आलोक में, नीचे दिए गए विकल्पों में से सही उत्तर का चयन कीजिए ।

- (1) A और R दोनों सत्य हैं और R, A की सही व्याख्या है
- (2) A और R दोनों सत्य हैं, लेकिन R, A की सही व्याख्या नहीं है
- (3) A सत्य है लेकिन R असत्य है
- (4) A असत्य है लेकिन R सत्य है

- 1[Option ID=6681]
2[Option ID=6682]
3[Option ID=6683]
4[Option ID=6684]

Sl. No.6

QBID:1554926

Pick out the antonym of 'vulnerable'

- (1) Stoicism
- (2) Immune
- (3) Incompetent
- (4) Capable

निम्नलिखित में से कौन जातिवाचक संज्ञा नहीं है -

- A. मनुष्य
- B. राम
- C. गंगा
- D. नदी
- E. मिठास

नीचे दिए गए विकल्पों में से सही उत्तर का चयन कीजिए:

- (1) A, B और C
- (2) B, C और D
- (3) C, D और E
- (4) B, C और E

1[Option ID=6685]

2[Option ID=6686]

3[Option ID=6687]

4[Option ID=6688]

Sl. No.7

QBID:1554927

Pick out the meaning of the underlined idiom in the following sentence.

Rina broke off in the middle of her story.

- (1) left
- (2) began anew
- (3) stopped suddenly
- (4) clarified

सूची I के साथ सूची II का मिलान कीजिए

सूची I		सूची II	
A.	जिस जमीन में कुछ भी न उगता हो	I.	प्रतिभू
B.	कम खर्च करने वाला	II.	मिताहारी
C.	जमानत करने वाला	III.	बंजर
D.	थोड़ा और नपा-तुला भोजन करने वाला	IV.	मितव्ययी

नीचे दिए गए विकल्पों में से सही उत्तर का चयन कीजिए:

- (1) A-III, B-IV, C-I, D-II
- (2) A-I, B-II, C-III, D-IV
- (3) A-II, B-III, C-IV, D-I

(4) A-IV, B-I, C-II, D-III

- 1[Option ID=6689]
2[Option ID=6690]
3[Option ID=6691]
4[Option ID=6692]

Sl. No.8

QBID:1554928

Choose the correct passive voice form of the following sentence.

We ought to respect our teachers.

- (1) Our teachers must be respected.
(2) Our teachers should be respected
(3) Our teachers ought to be respected.
(4) We need to respect our teachers

नीचे दो कथन दिए गए हैं:

कथन I : 'आँख खुलना' मुहावरे का एक अर्थ 'नींद टूटना' भी होता है ।

कथन II : लेकिन व्यंजना से इसका उपयुक्त अर्थ है 'भ्रम का दूर होना' ।

उपरोक्त कथन के आलोक में, नीचे दिए गए विकल्पों में से सही उत्तर का चयन कीजिए:

- (1) कथन I और II दोनों सत्य हैं
(2) कथन I और II दोनों असत्य हैं
(3) कथन I सत्य है, लेकिन कथन II असत्य है
(4) कथन I असत्य है, लेकिन कथन II सत्य है

- 1[Option ID=6693]
2[Option ID=6694]
3[Option ID=6695]
4[Option ID=6696]

Sl. No.9

QBID:1554929

Pick out the synonym of the following word.

envisage

- (1) command
(2) condemn
(3) contemplate
(4) curious

निम्नलिखित में से कौन लहर के समानार्थी हैं ?

- A. ऊर्मि
- B. वीचि
- C. तरल
- D. तरंग
- E. सुनामी

नीचे दिए गए विकल्पों में से सही उत्तर का चयन कीजिए:

- (1) केवल A, C और E
- (2) केवल B, D और E
- (3) केवल C, D और E
- (4) केवल A, B और D

1[Option ID=6697]

2[Option ID=6698]

3[Option ID=6699]

4[Option ID=6700]

Sl. No.10

QBID:15549210

Choose the correct sentence.


- (1) I found the food unedible.
- (2) I found the food inedible.
- (3) I found the food inaudible
- (4) I found the food unedible

निम्नलिखित में से अशुद्ध वाक्यों का चयन कीजिए ।

- A. साहित्य और जीवन का घोर सम्बन्ध है ।
- B. चोर पुलिस को डरता है ।
- C. जाऊँ कहाँ ! मैं तो आप पर ही निर्भर हूँ ।
- D. मैं ऐसा करना पहले से निश्चय कर रखा था ।
- E. चक्की के दो पाटों के बीच में कोई साबुत नहीं बचता ।

नीचे दिए गए विकल्पों में से सबसे उपयुक्त उत्तर का चयन कीजिए:

- (1) केवल C, D, E
- (2) केवल A, B, D



(3) केवल A, B, E

(4) केवल B, C, D

1[Option ID=6605]

2[Option ID=6606]

3[Option ID=6607]

4[Option ID=6608]

Sl. No.11

QBID:15549211

'Commemorative Stamp' is printed in honour of specific person, while the postage stamps for regular use are called :

(1) Post - Stamps

(2) Regular Stamps

(3) Definitive Stamps

(4) Postal Stamps

'स्मारक डाक टिकट' किसी विशेष व्यक्ति के सम्मान में छापे जाते हैं, जबकि नियमित उपयोग में आने वाले डाक के टिकटों को निम्न कहा जाता है -

(1) डाक-टिकट (पोस्ट-स्टैम्प)

(2) नियमित डाक टिकट (रेगुलर-स्टैम्स)

(3) स्थायी डाक टिकट (डीफिनिटिव स्टैम्स)

(4) डाक/डाकीय टिकट (पोस्टल स्टैम्स)

1[Option ID=6609]

2[Option ID=6610]

3[Option ID=6611]

4[Option ID=6612]

Sl. No.12

QBID:15549212

Identify the location of India's Astronomical Observatory.

(1) Itanagar

(2) Bangalore

(3) Sriharikota

(4) Ladakh

भारतीय खगोल-विज्ञानी वेधशाला कहाँ स्थित है ?

(1) ईटानगर

(2) बैंगलोर

(3) श्रीहरिकोटा

(4) लद्दाख

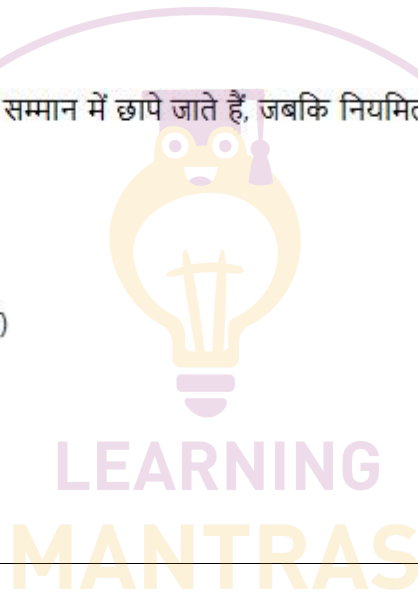
1[Option ID=6613]

2[Option ID=6614]

3[Option ID=6615]

4[Option ID=6616]

Sl. No.13



QBID:15549213

Given below are two statements: one is labeled as Assertion-A and the other is labeled as Reason-R

Assertion A : It is reported in The Hindu recently that custodial death (both police and judicial) amounted to more than 11 thousand in the last few years.

Reason R : Police brutality in Indian jails has increased many times.

In light of the above statements, choose the correct answer from the options given below :

- (1) Both A and R are true and R is the correct explanation of A
- (2) Both A and R are true but R is NOT the correct explanation of A
- (3) A is true but R is false
- (4) A is false but R is true

नीचे दो कथन दिए गए हैं: एक अभिकथन (Assertion A) के रूप में लिखित है तो दूसरा उसके कारण (Reason R) के रूप में:

अभिकथन A : हाल ही में 'द हिन्दू' अखबार में बताया गया कि पिछले कुछ वर्षों में (पुलिस और न्यायिक) हिरासत में 11 हजार से अधिक मौतें हुई हैं।

कारण R : भारतीय जेलों में पुलिस की क्रूरता कई गुना बढ़ गई है।

उपरोक्त कथन के आलोक में, नीचे दिए गए विकल्पों में से सबसे उपयुक्त उत्तर का चयन कीजिए।

- (1) A और R दोनों सही हैं और R, A की सही व्याख्या है
- (2) A और R दोनों सही हैं, लेकिन R, A की सही व्याख्या नहीं है
- (3) A सही है लेकिन R सही नहीं है
- (4) A सही नहीं है लेकिन R सही है

1[Option ID=6617]

2[Option ID=6618]

3[Option ID=6619]

4[Option ID=6620]

Sl. No.14

QBID:15549214

What is the largest organ of human body ?

- (1) Brain
- (2) Lung
- (3) Skin
- (4) Stomach

मानव-शरीर का सबसे बड़ा अंग क्या है ?

- (1) मस्तिष्क
- (2) फेफड़ा
- त्वचा

(3)

(4) पेट/आमाशय

1[Option ID=6621]

2[Option ID=6622]

3[Option ID=6623]

4[Option ID=6624]

Sl. No.15

QBID:15549215

Identify the correct combination of elements in Permafrost.

A. Soil

B. Oil

C. Gravel

D. Sand

E. Ice

F. Snow

Choose the correct answer from the options given below :

(1) C, D, B, F

(2) A, B, D, E

(3) A, C, D, E

(4) A, B, E, F

स्थायीतुबार-भूमि में तत्वों के सही समूह की पहचान कीजिए ।

A. मृदा

B. तेल

C. बजरी

D. बालू

E. बर्फ

F. हिम

नीचे दिए गए विकल्पों में से सही उत्तर का चयन कीजिए:

(1) C, D, B, F

(2) A, B, D, E

(3) A, C, D, E

(4) A, B, E, F

- 1[Option ID=6625]
2[Option ID=6626]
3[Option ID=6627]
4[Option ID=6628]

Sl. No.16
QBID:15549216

A crossing had four paths leading to College, Hospital, School and Market. If Ram has to reach Market from Hospital, he has to travel towards East and cross the crossing. If College is in the North of the crossing, in which direction is School from the crossing?

- (1) North
(2) South
(3) East
(4) West

एक चौराहे से चार रास्ते कॉलेज, अस्पताल, स्कूल और बाजार को जाते हैं। यदि राम को अस्पताल से बाजार पहुँचना हो तो उसे पूरब की ओर चलना पड़ेगा और चौराहा पार करना पड़ेगा। यदि कॉलेज चौराहे से उत्तर दिशा में है तो स्कूल चौराहे से किस दिशा में है ?

- (1) उत्तर
(2) दक्षिण
(3) पूर्व
(4) पश्चिम

- 1[Option ID=6629]
2[Option ID=6630]
3[Option ID=6631]
4[Option ID=6632]

Sl. No.17
QBID:15549217

A statement is followed by two courses of action. Assume everything in the statement is true and on the basis of the information given in the statement decide which of the course of action logically follows for pursuing

Statements :

The Helicopter service in U. S. is running into losses since its launch 20 years back.

Course of Action

Statements : (I) The helicopter service should be given financial assistance of \$ 300 million dollars to sustain itself.

Statements : (II) The helicopter services should hire a consultant who can advise them measures which can be taken to reduce expenditure.

- (1) Only (I) follows
(2)

LEARNING
MANTRAS

Only (II) follows

(3) Both (I) and (II) follow

(4) Neither (I) nor (II) follows

एक वक्तव्य के बाद दो क्रिया-पथ दिए गए हैं। मानिए कि वक्तव्य में सब कुछ सत्य है। वक्तव्य में दी गई सूचना के आधार पर यह निर्णय कीजिए कि तार्किक रूप से कौन सा क्रिया-पथ अपनाया जाना चाहिए ?

वक्तव्य :

अमेरिका में हेलीकाप्टर-सेवा 20 साल पहले प्रारम्भ परिचालन के समय से ही घाटे में रही है।

क्रिया-पथ : (I) हेलीकाप्टर-सेवा को \$ 300 मिलियन डालर की वित्तीय सहायता दी जानी चाहिए ताकि वह स्वयं को संभाल सके।

(II) हेलीकाप्टर-सेवाओं को एक परामर्शदाता की सेवाएँ भाड़े पर लेनी चाहिए जो उन्हें खर्च घटाने वाले कदमों के बारे में सलाह दे सके।

(1) केवल (I) सही है।

(2) केवल (II) सही है।

(3) दोनों (I) और (II) सही है।

(4) न तो (I) और न ही (II) सही है।

1[Option ID=6633]

2[Option ID=6634]

3[Option ID=6635]

4[Option ID=6636]

Sl. No.18

QBID:15549218

The following question has a statement & three conclusions. Check the conclusion on the basis of the statement and choose the correct option :

Statement : A manager advised seven workers to resign due to low productivity or they will be terminated tomorrow. Six workers resigned immediately.

Conclusion : (i) One worker will resign tomorrow.

(ii) The manager will terminate him tomorrow.

(iii) The workers may not resign and shall also not be terminated.

(1) Only (i) follows

(2) Only (ii) follows

(3) Only (iii) follows

(4) Either (i) or (ii) follows

LEARNING
MANTRAS

निम्नलिखित प्रश्न में एक कथन और तीन निष्कर्ष दिये गये हैं। कथन के आधार पर निष्कर्षों का परीक्षण कीजिए और सही विकल्प चुनिये :

कथन : एक प्रबंधक ने कम उत्पादकता के कारण सात कामगारों को इस्तीफा देने की सलाह दी अन्यथा उन्हें कल सेवामुक्त कर दिया जायेगा। छह कामगारों ने तत्काल इस्तीफा दे दिया।

निष्कर्ष : (i) एक कामगार कल इस्तीफा देगा।

(ii) प्रबंधक उसे कल सेवामुक्त कर देगा।

(iii) कामगार इस्तीफा नहीं दे सकता और न ही सेवामुक्त किया जायेगा।

(1) केवल (i) लागू होता है

(2) केवल (ii) लागू होता है

(3) केवल (iii) लागू होता है

(4) या तो (i) या (ii) लागू होता है

1[Option ID=6637]

2[Option ID=6638]

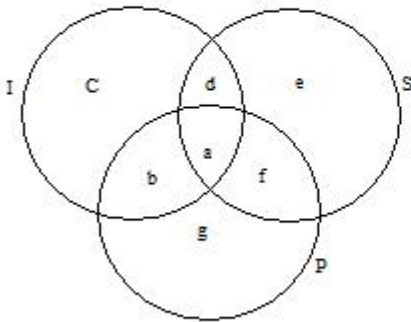
3[Option ID=6639]

4[Option ID=6640]

Sl. No.19

QBID:15549219

There are three intersecting circles I, S, P. Circle I stands for Class XII, S stands for Students and P stands for Poor. Different regions are represented by letters from a to g.



Which region is represented by Class XII students who are not poor ?

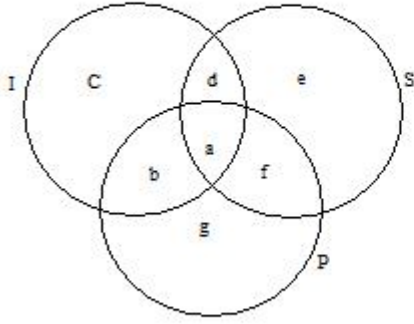
(1) Only a

(2) Only d

(3) Both a and d

(4) Only b

I, S, और P, तीन प्रतिच्छेदी वृत्त हैं। I कक्षा 12वीं के लिए है, S छात्रों के लिए और P निर्धनों के लिए। अलग-अलग क्षेत्रों को a से g तक के अक्षरों से दर्शाया गया है।



कौन सा क्षेत्र ऐसे 12वीं कक्षा के छात्रों को दर्शाता है जो निर्धन नहीं है ?

- (1) केवल a
- (2) केवल d
- (3) a और b दोनों
- (4) केवल b

1[Option ID=6641]

2[Option ID=6642]

3[Option ID=6643]

4[Option ID=6644]

Sl. No.20

QBID:15549220

A Statement is followed by two courses of action. Assume that the information given in the statement is true. On the basis of the statement decide which course of action logically follows for perusing.

Statement :

The Chief Minister has received a complaint regarding demand of bribe by a senior officer for favoring an industry.

Course of action :

(i) The investigating agency should catch the officer red handed and take legal course of action.

(ii) The Chief Minister should wait for more complaints about the officer as this might be one odd case.

- (1) Only (i) follows
- (2) Only (ii) follows
- (3) Neither (i) nor (ii) follows
- (4) Both (i) and (ii) follow

एक कथन के पश्चात दो कार्यविधि दी गयी है। माना कि कथन में दी गयी सूचना सत्य है। कथन के आधार पर अनुशीलन हेतु तार्किक रूप से कौन सी कार्यविधि लागू होती है

कथन :

किसी उद्योग का पक्ष लेने के लिए वरिष्ठ अधिकारी द्वारा रिश्तत की मांग के संदर्भ में एक शिकायत मुख्यमंत्री को प्राप्त हुई।

कार्यविधि :

(i) जांच एजेंसी को अधिकारी को रंगे-हाथ पकड़ना चाहिए और कानूनी कार्यवाई करनी चाहिए।

(ii) मुख्यमंत्री को अधिकारी के बारे में और अधिक शिकायतों का इंतजार करना चाहिए क्योंकि यह अपवादजन्य प्रकरण हो सकता है।

(1) केवल (i) लागू होता है

(2) केवल (ii) लागू होता है

(3) न तो (i) और न ही (ii) लागू होता है

(4) (i) और (ii) दोनों लागू होते हैं

1[Option ID=6649]

2[Option ID=6650]

3[Option ID=6651]

4[Option ID=6652]

Sl. No.21

QBID:15549221

One tap can fill an empty cistern in 2 hours and another tap can empty the same filled cistern in 3 hours. The time taken to fill the cistern if both the taps are opened, is :

(1) 6 hours

(2) 7 hours

(3) 6.30 hours

(4) 8 hours

एक नल किसी खाली कुन्ड को 2 घंटे में भर सकता है और एक नल उस भरे हुए कुन्ड को 3 घंटे में खाली कर सकता है। यदि दोनों नल खुले हुए हों तो कुन्ड को भरने में कितना समय लगेगा ?

(1) 6 घंटे

(2) 7 घंटे

(3) 6.30 घंटे

(4) 8 घंटे

1[Option ID=6653]

2[Option ID=6654]

3[Option ID=6655]

4[Option ID=6656]

Sl. No.22

QBID:15549222

In how many different ways can the letters of the word THERAPY be arranged so that the vowels never come together ?

- (1) 1440
- (2) 5040
- (3) 3600
- (4) 4800

शब्द THERAPY के अक्षरों को ऐसे कितने तरीकों से संयोजित किया जा सकता है, जिनमें स्वर अक्षर कभी भी साथ न आ पाए ?

- (1) 1440
- (2) 5040
- (3) 3600
- (4) 4800

- 1[Option ID=6657]
- 2[Option ID=6658]
- 3[Option ID=6659]
- 4[Option ID=6660]

Sl. No.23
QBID:15549223

In the four consecutive prime numbers that are in ascending order, the product of first three is 385 and that of last three is 1001. The largest prime number is :

- (1) 11
- (2) 13
- (3) 17
- (4) 19

चार क्रमागत अभाज्य संख्याएँ आरोही क्रम में हैं। उनमें से पहले तीन का गुणनफल 385 है और बाद की तीन संख्याओं का गुणनफल 1001 है। इनमें सबसे बड़ी अभाज्य संख्या कौन सी है ?

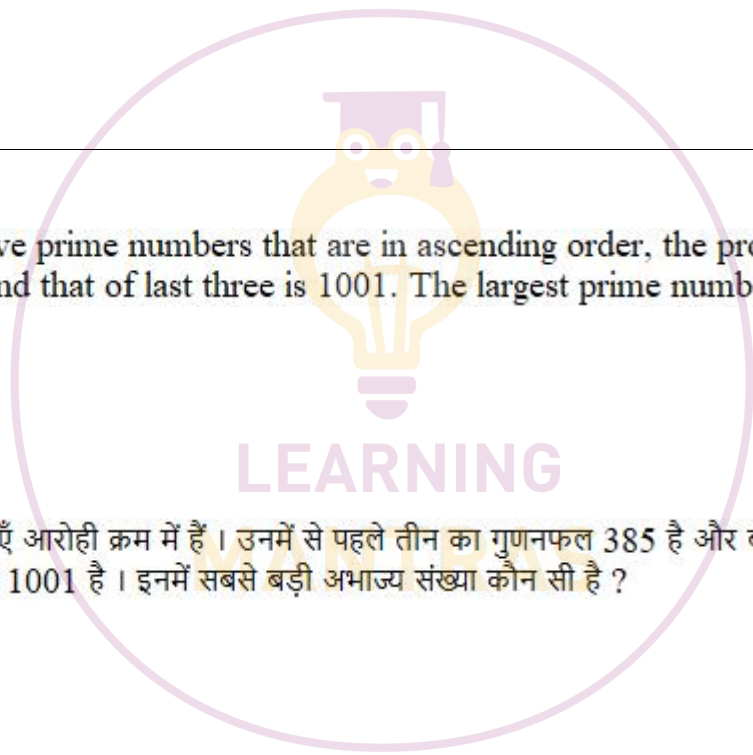
- (1) 11
- (2) 13
- (3) 17
- (4) 19

- 1[Option ID=6661]
- 2[Option ID=6662]
- 3[Option ID=6663]
- 4[Option ID=6664]

Sl. No.24
QBID:15549224

If $1.5 = 0.04y$, then the value of $\frac{y-x}{y+x}$ is :

- (1) 730/77
- (2) 73/77
- (3) 7.3/77
- (4) 0.73/77



यदि $1.5x = 0.04y$ है तो $\frac{y-x}{y+x}$ का मान क्या है ?

- (1) 730/77
- (2) 73/77
- (3) 7.3/77
- (4) 0.73/77

- 1[Option ID=6665]
2[Option ID=6666]
3[Option ID=6667]
4[Option ID=6668]

Sl. No.25
QBID:15549225

The sum of the present ages of father and son is 90 years. 10 years earlier, the ratio of their ages was 5:2. The present age of the father is :

- (1) 65 years
- (2) 68 years
- (3) 60 years
- (4) 70 years

पिता और पुत्र की वर्तमान आयुओं का योग 90 वर्ष है। 10 वर्ष पहले, उनकी आयु के बीच का अनुपात 5:2 था। पिता की वर्तमान आयु क्या है ?

- (1) 65 वर्ष
- (2) 68 वर्ष
- (3) 60 वर्ष
- (4) 70 वर्ष

- 1[Option ID=6669]
2[Option ID=6670]
3[Option ID=6671]
4[Option ID=6672]

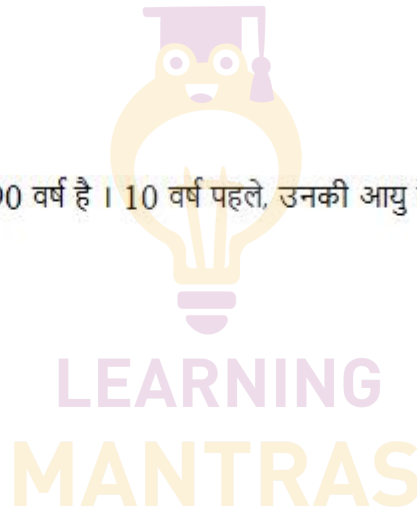
Sl. No.26
QBID:1354681

As per the principle of _____, no one can make profit by insuring with multiple insures.

- (1) Co-insurance
- (2) Indemnity
- (3) Subrogation
- (4) Contribution

_____ सिद्धान्त के अनुसार बहुबीमाकर्ताओं के साथ बीमा करके किसी को भी लाभ प्राप्त नहीं हो सकता।

- (1) सह-बीमा
- (2) क्षतिपूर्ति
- (3) अनुस्थापन



(4) अंशदान

- 1[Option ID=5401]
2[Option ID=5402]
3[Option ID=5403]
4[Option ID=5404]

Sl. No.27

QBID:1354682

Which principle of Insurance is not applicable to life Insurance ?

- (1) Utmost Good faith
(2) Causa proxima
(3) Subrogation
(4) Insurable Interest

कौन-सा बीमा सिद्धान्त जीवन बीमा के लिए लागू नहीं होता?

- (1) अति आस्था
(2) प्रकरण संचिका
(3) अनुस्थापन
(4) बीमा-योग्य हित

- 1[Option ID=5445]
2[Option ID=5446]
3[Option ID=5447]
4[Option ID=5448]

Sl. No.28

QBID:1354683

Match List - I with List - II

List - I (Specific Sector)		List - II (Regulatory Body)	
A	Capital Market	I	TRAI
B	Insurance Sector	II	RBI
C	Banking Sector	III	SEBI
D	Telecom Sector	IV	IRDA

Choose the correct answer from the options given below :

- (1) A-III, B-IV, C-I, D-II
(2) A-III, B-I, C-IV, D-II
(3) A-III, B-IV, C-II, D-I
(4) A-I, B-III, C-IV, D-II

सूची I के साथ सूची II का मिलान कीजिए

सूची I (विशिष्ट क्षेत्र)	सूची II नियामक निकाय
A. पूँजी बाजार	I. टी आर ए आई
B. बीमा क्षेत्र	II. आर बी आई
C. बैंकिंग क्षेत्र	III. सेबी/एस ई बीआई
D. टेलीकॉम क्षेत्र	IV. आईआर डी ए

नीचे दिए गए विकल्पों में से सही उत्तर का चयन कीजिए:

- (1) A-III, B-IV, C-I, D-II
- (2) A-III, B-I, C-IV, D-II
- (3) A-III, B-IV, C-II, D-I
- (4) A-I, B-III, C-IV, D-II

- 1[Option ID=5489]
2[Option ID=5490]
3[Option ID=5491]
4[Option ID=5492]

Sl. No.29
QBID:1354684

The share capital of a RRB is subscribed by Central Government the state Government and sponsoring bank in the ratio of :

- (1) 50 : 25 : 25
- (2) 50 : 15 : 35
- (3) 40 : 30 : 30
- (4) 40 : 40 : 20

एक ग्रामीण क्षेत्रीय बैंक की पूँजी में केन्द्र सरकार, राज्य सरकार तथा समर्थक बैंक का अंशदान निम्न में से किस अनुपात में होता है?

- (1) 50 : 25 : 25
- (2) 50 : 15 : 35
- (3) 40 : 30 : 30
- (4) 40 : 40 : 20

- 1[Option ID=5533]
2[Option ID=5534]
3[Option ID=5535]
4[Option ID=5536]

Sl. No.30
QBID:1354685

Which of the following banks is established to support Agricultural Finance ?

- (1) SBI
- (2) RBI
- (3) NABARD
- (4) Bank of Baroda

निम्नलिखित में से किस बैंक की स्थापना कृषि वित्तपोषण की सहायता के लिए हुई है?

- (1) भारतीय स्टेट बैंक
- (2) भारतीय रिज़र्व बैंक
- (3) नाबार्ड
- (4) बैंक ऑफ बड़ौदा

1[Option ID=5577]

2[Option ID=5578]

3[Option ID=5579]

4[Option ID=5580]

Sl. No.31

QBID:1354686

Which of the following is not an asset of Commercial Banks ?

- (1) Bills of Exchange
- (2) Demand Deposit
- (3) Cash Reserve with RBI
- (4) Money lent to customers

निम्नलिखित में से कौन-सा वाणिज्यिक बैंक की परिसंपत्ति नहीं है?

- (1) विनिमय पत्र
- (2) माँग जमा
- (3) भारतीय रिज़र्व बैंक के पास नकद आरक्षित
- (4) ग्राहकों को उधार दी गयी मुद्रा

1[Option ID=5621]

2[Option ID=5622]

3[Option ID=5623]

4[Option ID=5624]

Sl. No.32

QBID:1354687

Which of the following is the Asset function of money ?

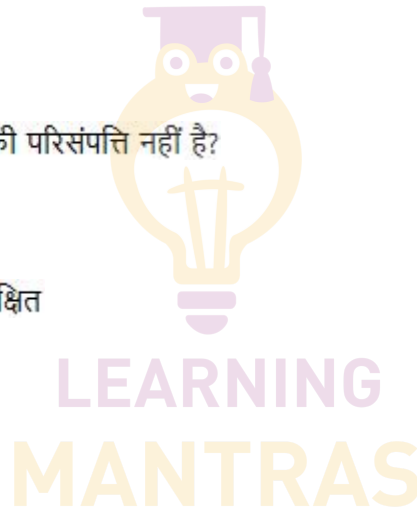
- (1) Unit of Account
- (2) Medium of Exchange
- (3) Standard of deferred payment
- (4) Store of value

निम्न से कौन-सा मुद्रा का सम्पत्ति सम्बन्धी कार्य है?

- (1) लेखा की इकाई
- (2) विनिमय का माध्यम
- (3) स्थगित भुगतान का मानक
- (4) मूल्य का संग्रह

1[Option ID=5665]

2[Option ID=5666]



3[Option ID=5667]

4[Option ID=5668]

Sl. No.33

QBID:1354688

In order to increase money supply in the economy :

- (1) Bank Rate and CRR should be increased
- (2) Bank Rate should increase and CRR should decrease
- (3) Bank rate should decrease and CRR should increase
- (4) Both Bank Rate and CRR should be decreased

अर्थव्यवस्था में मुद्रा की आपूर्ति को बढ़ाने के लिए:

- (1) बैंक दर तथा नकद आरक्षित अनुपात को बढ़ाया जाना चाहिए।
- (2) बैंक दर को बढ़ाना चाहिए तथा नकद आरक्षित अनुपात को कम करना चाहिए।
- (3) बैंक दर को कम करना चाहिए तथा नकद आरक्षित अनुपात बढ़ाना चाहिए।
- (4) बैंक दर तथा नकद आरक्षित अनुपात, दोनों को ही कम करना चाहिए।

1[Option ID=5693]

2[Option ID=5694]

3[Option ID=5695]

4[Option ID=5696]

Sl. No.34

QBID:1354689

Which of the following functions are involved under marketing management's functions ?

- A. Collection of marketing
- B. Marketing co-ordination
- C. Marketing controlling
- D. Marketing planning
- E. Marketing Evaluation

Choose the correct answer from the options given below :

- (1) A, B and C
- (2) A, B and D
- (3) A, B, C, and D
- (4) A, B, C, D and E

LEARNING
MANTRAS

नीचे दिए गए कार्यों में से कौन सा कार्य विपणन प्रबंधन के कार्यों में शामिल होता है ?

- A. विपणन का संग्रहण
- B. विपणन समन्वय
- C. विपणन नियंत्रण
- D. विपणन नियोजन
- E. विपणन मूल्यांकन

नीचे दिए गए विकल्पों में से सही उत्तर का चयन कीजिए:

- (1) A, B and C
- (2) A, B and D
- (3) A, B, C, and D
- (4) A, B, C, D and E

- 1[Option ID=5697]
- 2[Option ID=5698]
- 3[Option ID=5699]
- 4[Option ID=5700]

Sl. No.35

QBID:13546810

Rising promotion costs and shrinking profit margins are the results of which of the following?

- (1) Globalisation
- (2) Deregulation
- (3) Heightened competition
- (4) Changing technology

बढ़ती हुई प्रोत्साहन लागत और कम होती लाभ की गुंजाइश का कम होना निम्नलिखित में से किसका परिणाम है?

- (1) वैश्वीकरण
- (2) अविनियमन
- (3) प्रतिस्पर्धा का बढ़ना
- (4) परिवर्तनकारी प्रौद्योगिकी

- 1[Option ID=5405]
- 2[Option ID=5406]
- 3[Option ID=5407]
- 4[Option ID=5408]

Sl. No.36

QBID:13546811

"Marketing is a human activity directed at satisfying needs and wants through exchange processes." Who said ?

- (1) Philip Kotler
- (2) Peter F. Drucker
- (3) Hansi L. V.
- (4) D.S. Pauler

किसने कहा है - 'विपणन एक मानवीय क्रिया है जो विनिमय प्रक्रियाओं के द्वारा आवश्यकताओं तथा इच्छाओं की संतुष्टि द्वारा निर्देशित होती है।'

- (1) फिलिप कोटलर
- (2) पीटर एफ. ड्रकर
- (3) हैंसी एल. वी.
- (4) डी. एस. पॉलर

1[Option ID=5409]

2[Option ID=5410]

3[Option ID=5411]

4[Option ID=5412]

Sl. No.37

QBID:13546812

Match List - I with List - II

List - I (P's of marketing)		List - II (Elements)	
A	Product	I	Warranty
B	Price	II	Credit facility
C	Promotion	III	Personal Selling
D	Place	IV	Factory Location

Choose the correct answer from the options given below :

- (1) A-I, B-II, C-III, D-IV
- (2) A-IV, B-III, C-II, D-I
- (3) A-III, B-I, C-II, D-IV
- (4) A-II, B-I, C-III, D-IV

सूची I के साथ सूची II का मिलान कीजिए

सूची I (विपणन के पी)	सूची II (तत्व)
A. उत्पाद	I. आश्वस्ति
B. मूल्य	II. ऋण सुविधा
C. प्रोत्साहन	III. व्यक्तिगत रूप से की गई बिक्री
D. स्थान	IV. फैक्ट्री का स्थान

नीचे दिए गए विकल्पों में से सही उत्तर का चयन कीजिए:

- (1) A-I, B-II, C-III, D-IV
- (2) A-IV, B-III, C-II, D-I
- (3)

A-III, B-I, C-II, D-IV

(4) A-II, B-I, C-III, D-IV

1[Option ID=5413]

2[Option ID=5414]

3[Option ID=5415]

4[Option ID=5416]

Sl. No.38

QBID:13546813

Advertising does not appear to be important in

- (1) Brand Image
- (2) Highlighting specific feature
- (3) Information
- (4) All of these

निम्नलिखित में से किसमें विज्ञापन महत्वपूर्ण प्रतीत नहीं होता -

- (1) ब्रांड छवि
- (2) मुख्य विशेषताओं पर बल देना
- (3) सूचना
- (4) उपरोक्त सभी

1[Option ID=5417]

2[Option ID=5418]

3[Option ID=5419]

4[Option ID=5420]

Sl. No.39

QBID:13546814

Customers buy from stores and firms that offer the highest _____

- (1) Company Image
- (2) Value for the money
- (3) Customer perceived value
- (4) Level of customer satisfaction

ग्राहक उन स्थानों और फर्मों से खरीदारी करते हैं जो उच्चतम _____ प्रदान करते हैं।

- (1) कंपनी छवि
- (2) धन की पूरी वसूली (वैल्यू फॉर द मनी)
- (3) ग्राहक द्वारा अनुभूत मूल्य
- (4) ग्राहक संतुष्टि का स्तर

1[Option ID=5421]

2[Option ID=5422]

3[Option ID=5423]

4[Option ID=5424]

Sl. No.40

QBID:13546815



Promotion Mix is the particular combination of promotional tools used by a company to _____ with its audiences.

- (1) Help
- (2) Communicate
- (3) Purchasing Decision
- (4) Plan

प्रवर्तन मिश्र, प्रवर्तनीय उपकरणों का एक विशेष संयोजन है जो कंपनी द्वारा अपने श्रोताओं/दर्शकों के साथ _____ के लिए उपयोग किया जाता है।

- (1) मदद
- (2) संप्रेषण
- (3) क्रय निर्णय
- (4) योजना

1[Option ID=5425]

2[Option ID=5426]

3[Option ID=5427]

4[Option ID=5428]

Sl. No.41

QBID:13546816

In a perfectly competitive market, a firm to be in equilibrium in the long run achieves normal profit only when

- (1) Average cost and average revenue will be equal
- (2) Marginal cost and marginal revenue will be equal
- (3) Average variable cost and marginal revenue will be equal
- (4) $AC=I$, $MC=AR=MR$ are all equal

पूर्ण स्पर्धात्मक बाजार में दीर्घकाल में एक फर्म _____ सन्तुलन में आते हुए केवल सामान्य लाभ प्राप्त करती है जब:

- (1) औसत लागत एव औसत राजस्व समान होगा।
- (2) सीमान्त लागत एवं सीमान्त राजस्व समान होगा।
- (3) औसत परिवर्तनशील लागत एवं सीमान्त राजस्व समान होगा।
- (4) औसत लागत, सीमान्त लागत, औसत राजस्व एवम सीमान्त राजस्व सभी समान होगा।

1[Option ID=5429]

2[Option ID=5430]

3[Option ID=5431]

4[Option ID=5432]

Sl. No.42

QBID:13546817

Match List - I and List - II

List - I (Tool / Theory)		List - II (Application)	
A	Demand Analysis	I	Demand forecasting
B	Cost and Product Analysis	II	Cost output relationship
C	Capital Management	III	Price estimates
D	Profit Management	IV	Profit policies

Choose the correct answer from the options given below :

- (1) A-I, B-IV, C-III, D-II
- (2) A-III, B-I, C-IV, D-II
- (3) A-I, B-II, C-III, D-IV
- (4) A-I, B-II, C-IV, D-III

सूची I के साथ सूची II का मिलान कीजिए

सूची I (उपकरण/सिद्धांत)	सूची II (अनुप्रयोग)
A. माँग विश्लेषण	I. माँग पूर्वानुमान
B. लागत एवं उत्पाद विश्लेषण	II. लागत निर्गत संबंध
C. पूँजी प्रबंधन	III. मूल्य अनुमान
D. लाभ प्रबंधन	IV. लाभ नीतियाँ

नीचे दिए गए विकल्पों में से सही उत्तर का चयन कीजिए:

- (1) A-I, B-IV, C-III, D-II
- (2) A-III, B-I, C-IV, D-II
- (3) A-I, B-II, C-III, D-IV
- (4) A-I, B-II, C-IV, D-III

1[Option ID=5433]

2[Option ID=5434]

3[Option ID=5435]

4[Option ID=5436]

Sl. No.43

QBID:13546818

Under price discrimination, price will be higher in the market where demand is:

- (1) Highly elastic
- (2) Unitary elastic
- (3) Less elastic
- (4) None of these

मूल्य विभेदीकरण के अंतर्गत, बाज़ार में मूल्य तब अधिक होगा जब माँग _____ होती है:

- (1) अत्यधिक लोचदार
- (2)

ऐकिक लोच

- (3) कम लोचदार
- (4) इनमें से कोई नहीं

- 1[Option ID=5437]
- 2[Option ID=5438]
- 3[Option ID=5439]
- 4[Option ID=5440]

Sl. No.44

QBID:13546819

Which of the following is the method of measuring elasticity of demand when change in price of a commodity is substantial?

- (1) Point method
- (2) Percentage method
- (3) Arc method
- (4) None of these

नीचे दी गई विधियों में माँग की लोच के मापन की कौन सी विधि है जब कि किसी वस्तु के मूल्य में परिवर्तन अत्यधिक है।

- (1) बिंदु विधि
- (2) प्रतिशत विधि
- (3) चाप विधि
- (4) इनमें से कोई नहीं

- 1[Option ID=5441]
- 2[Option ID=5442]
- 3[Option ID=5443]
- 4[Option ID=5444]

Sl. No.45

QBID:13546820

If marginal cost is above average variable cost at a time when output is rising, then

- (1) Average variable cost is falling
- (2) Average variable cost is rising
- (3) Average total cost is falling
- (4) None of these

यदि सीमांत लागत किसी ऐसे समय पर जब उत्पादन बढ़ रहा है और औसत परिवर्तनशील लागत से अधिक है, तो-

- (1) औसत परिवर्तनशील लागत कम हो रही है ।
- (2) औसत परिवर्तनशील लागत बढ़ रही है ।
- (3) औसत कुल लागत कम हो रही है ।
- (4) उपरोक्त में से कोई नहीं ।

- 1[Option ID=5449]
- 2[Option ID=5450]

LEARNING
MANTRAS

3[Option ID=5451]

4[Option ID=5452]

Sl. No.46

QBID:13546821

Match List - I with List - II

List - I (Methods of Quantitative Economics)		List - II (Tools / Techniques)	
A	Inventory Control	I	Simplex
B	L.P.P.	II	Saddle point
C	Game theory	III	FIFO
D	Inventory Valuation	IV	VED

Choose the correct answer from the options given below :

(1) A-IV, B-I, C-III, D-II

(2) A-IV, B-I, C-II, D-III

(3) A-I, B-IV, C-II, D-III

(4) A-IV, B-II, C-I, D-III

सूची I के साथ सूची II का मिलान कीजिए

सूची I (मात्रात्मक अर्थशास्त्र की विधियाँ)	सूची II (उपकरण / तकनीक)
A. स्कन्ध नियंत्रण	I. साधारण
B. एल.पी.पी.	II. सैडल बिंदु
C. क्रीड़ा सिद्धान्त	III. एफआईएफओ
D. स्कन्ध मूल्यांकन	IV. वीईडी

नीचे दिए गए विकल्पों में से सही उत्तर का चयन कीजिए:

(1) A-IV, B-I, C-III, D-II

(2) A-IV, B-I, C-II, D-III

(3) A-I, B-IV, C-II, D-III

(4) A-IV, B-II, C-I, D-III

1[Option ID=5453]

2[Option ID=5454]

3[Option ID=5455]

4[Option ID=5456]

Sl. No.47

QBID:13546822

The EOQ of an item is calculated using the annual demand together with _____ and _____

(1) Indirect and Holding costs

(2) Direct and Variable costs

(3) Ordering and Holding costs

(4) Direct and Ordering costs

वार्षिक माँग को _____ तथा _____ के साथ एकसाथ उपयोग करके किसी मद के ई.ओ.क्यू की गणना की जाती है।

- (1) अप्रत्यक्ष तथा धारित लागतें
- (2) प्रत्यक्ष तथा परिवर्ती लागतें
- (3) आदेशात्मक ऑर्डरिंग तथा धारित लागतें
- (4) प्रत्यक्ष तथा आदेशात्मक ऑर्डरिंग लागतें

1[Option ID=5457]

2[Option ID=5458]

3[Option ID=5459]

4[Option ID=5460]

Sl. No.48

QBID:13546823

Which of the following are true in the context to company law ?

- A. In case of transfer of shares, stamp duty is essential.
- B. For transmission of shares no consideration is necessary.
- C. A person cannot be director of more than 30 companies at the same time.
- D. 'IPO' stands for Initial Public Obligation.
- E. Departmental undertaking is a type of government undertaking.

Choose the correct answer from the options given below :

- (1) A, B, C, D
- (2) A, B and C
- (3) A, B and E
- (4) All of these

कंपनी कानून के संदर्भ में निम्न में से कौन-से सही हैं?

- A. अंशों के हस्तांतरण के संदर्भ में स्टैम्प शुल्क अनिवार्य है।
- B. अंशों के प्रेषण के लिए प्रतिफल जरूरी नहीं है।
- C. एक ही व्यक्ति, एक ही समय पर 30 से अधिक कंपनियों का निदेशक नहीं हो सकता।
- D. 'आई.पी.ओ.' इनीशियल पब्लिक आब्लिगेशन के लिए प्रयुक्त होता है।
- E. विभागीय उपक्रम एक प्रकार का सरकारी उपक्रम है।

नीचे दिए गए विकल्पों में से सही उत्तर का चयन कीजिए:

- (1) A, B, C, D
- (2) A, B and C
- (3) A, B and E
- (4) All of these

- 1[Option ID=5461]
 2[Option ID=5462]
 3[Option ID=5463]
 4[Option ID=5464]

Sl. No.49

QBID:13546824


Match List - I with List - II

List - I		List - II	
(Serial Number of Clause)		(Title in Memorandum of Association)	
A	1	I	Object clause
B	3	II	Liability clause
C	4	III	Association clause
D	6	IV	Name clause

Choose the correct answer from the options given below :

- (1) A-I, B-IV, C-II, D-III
 (2) A-IV, B-I, C-II, D-III
 (3) A-IV, B-I, C-III, D-II
 (4) A-I, B-IV, C-II, D-III

सूची I के साथ सूची II का मिलान कीजिए



सूची I (खंड वाक्य की क्रम संख्या)	सूची II (सहसंघ के ज्ञापन में शीर्षक)
A. 1	I. उद्देश्य खंड वाक्य
B. 3	II. दायित्व खंड वाक्य
C. 4	III. सहसंघ खंड वाक्य
D. 6	IV. नाम खंड वाक्य

नीचे दिए गए विकल्पों में से सही उत्तर का चयन कीजिए:

- (1) A-I, B-IV, C-II, D-III
 (2) A-IV, B-I, C-II, D-III
 (3) A-IV, B-I, C-III, D-II
 (4) A-I, B-IV, C-II, D-III

- 1[Option ID=5465]
 2[Option ID=5466]
 3[Option ID=5467]
 4[Option ID=5468]

Sl. No.50

QBID:13546825

Staffing includes

- A. Training
- B. Appraisal
- C. Placement
- D. Directing

Choose the correct answer from the following options given below :

- (1) A and C
- (2) B and C
- (3) A, B and C
- (4) A, B, C and D

स्टाफिंग में शामिल है _____

- A. प्रशिक्षण
- B. कार्य का मूल्यांकन
- C. स्थापा
- D. निर्देशन

नीचे दिए गए विकल्पों में से सही उत्तर का चयन कीजिए:

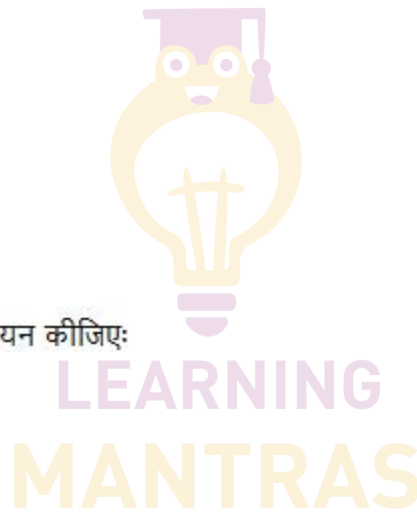
- (1) A and C
- (2) B and C
- (3) A, B and C
- (4) A, B, C and D

1[Option ID=5469]

2[Option ID=5470]

3[Option ID=5471]

4[Option ID=5472]



Sl. No.51

QBID:13546826

An organisation structure is effective if it enables individuals to contribute to the objectives of the enterprise. This is known as

- (1) Scalar principle
- (2) Principle of functional definition
- (3) Principle of unity of objectives
- (4) None of these

किसी संगठन की संरचना तब प्रभावशाली होती है यदि यह व्यक्तियों को उद्यम के उद्देश्यों की पूर्ति के लिए योगदान देने में सक्षम बनाती है। इसे _____ कहते हैं।

- (1) अधिक्रम सिद्धांत

- (2) प्रकार्यात्मक परिभाषा का सिद्धांत
- (3) उद्देश्यों की एकता का सिद्धांत
- (4) इनमें से कोई नहीं

1[Option ID=5473]

2[Option ID=5474]

3[Option ID=5475]

4[Option ID=5476]

Sl. No.52

QBID:13546827

Given below are two statements : One is labelled as Assertion A and the other is labelled as Reason R.

Assertion A : According to Taylor, one best way of doing each task leads to increase in productivity in organisation.

Reason R : It was the management responsibility alone to find out the one best way.

In the light of the above statements, choose the correct answer from the options given below:

- (1) Both A and R are correct and R is the correct explanation of A.
- (2) Both A and R are correct but R is NOT the correct explanation of A.
- (3) A is correct but R is incorrect.
- (4) A is not correct but R is correct.

नीचे दो कथन दिए गए हैं: एक अभिकथन (Assertion A) के रूप में लिखित है तो दूसरा उसके कारण (Reason R) के रूप में:

अभिकथन A : टेलर के अनुसार, प्रत्येक कार्य को सर्वोत्तम ढंग से करना किसी भी संगठन की उत्पादकता को बढ़ाने की तरफ अग्रसर करता है।

कारण R : एक सर्वोत्तम विधि ढूँढना केवल प्रबंधन का दायित्व है।

उपरोक्त कथन के आलोक में, नीचे दिए गए विकल्पों में से सही उत्तर का चयन कीजिए।

- (1) A और R दोनों सत्य हैं और R, A की सही व्याख्या है
- (2) A और R दोनों सत्य हैं, लेकिन R, A की सही व्याख्या नहीं है
- (3) A सत्य है, लेकिन R असत्य है
- (4) A असत्य है, लेकिन R सत्य है

1[Option ID=5477]

2[Option ID=5478]

3[Option ID=5479]

4[Option ID=5480]

Sl. No.53

QBID:13546828

Match List - I with List - II

List - I (Theories of Leadership)		List - II (Example)	
A	The follower theory	I	Effective leader
B	The Behavioural theory	II	Character of leader theory
C	The great man theory	III	Leader is a leader
D	The trial theory	IV	Personality

Choose the correct answer from the options given below :

- (1) A-I, B-II, C-III, D-IV
- (2) A-IV, B-III, C-II, D-I
- (3) A-III, B-IV, C-II, D-I
- (4) A-IV, B-III, C-I, D-II

सूची I के साथ सूची II का मिलान कीजिए

सूची - I नेतृत्व के सिद्धान्त	सूची - II उदाहरण
A. अनुयायी सिद्धान्त	I. प्रभावशाली नेता
B. व्यावहारिक सिद्धान्त	II. नेता सिद्धान्त की विशेषता
C. महापुरुष सिद्धान्त	III. नेता तो नेता है
D. परीक्षण सिद्धान्त	IV. व्यक्तित्व

नीचे दिए गए विकल्पों में से सही उत्तर का चयन कीजिए:

- (1) A-I, B-II, C-III, D-IV
- (2) A-IV, B-III, C-II, D-I
- (3) A-III, B-IV, C-II, D-I
- (4) A-IV, B-III, C-I, D-II

1[Option ID=5481]

2[Option ID=5482]

3[Option ID=5483]

4[Option ID=5484]

Sl. No.54

QBID:13546829

Match List - I with List - II

List - I (Element of Broad Category)		List - II (Broad Category)	
A	Grapevine	I	Tools of control
B	Unity of direction	II	Scientific management
C	Time and Motion study	III	Form of communication
D	Budget	IV	Management principle

Choose the correct answer from the options given below :

- (1) A-I, B-II, C-III, D-IV
- (2) A-III, B-IV, C-II, D-I
- (3) A-III, B-IV, C-I, D-II
- (4) A-IV, B-III, C-I, D-II

सूची I के साथ सूची II का मिलान कीजिए

सूची I (व्यापक श्रेणी के तत्व)	सूची II (व्यापक श्रेणी)
A. अपुष्ट समाचार	I. नियंत्रण के उपकरण
B. निर्देशन की एकता	II. वैज्ञानिक प्रबंधन
C. समय और गति अध्ययन	III. संप्रेषण का रूप
D. बजट	IV. प्रबंधन सिद्धान्त

नीचे दिए गए विकल्पों में से सही उत्तर का चयन कीजिए:

- (1) A-I, B-II, C-III, D-IV
- (2) A-III, B-IV, C-II, D-I
- (3) A-III, B-IV, C-I, D-II
- (4) A-IV, B-III, C-I, D-II

1[Option ID=5485]

2[Option ID=5486]

3[Option ID=5487]

4[Option ID=5488]

Sl. No.55

QBID:13546830

Given below are two statements : One is labelled as Assertion A and the other is labelled as Reason R.

Assertion A : The neglect of the human side of the organisation has been one of the major criticisms of Taylorism.

Reason R : Taylor and his followers had viewed organisation mechanistically.

In the light of the above statements, choose the correct answer from the options given below:

- (1) Both A and R are true and R is the correct explanation of A.
- (2) Both A and R are true but R is NOT the correct explanation of A.
- (3) A is true but R is false.

(4) A is false but R is true.

नीचे दो कथन दिए गए हैं: एक अभिकथन (Assertion A) के रूप में लिखित है तो दूसरा उसके कारण (Reason R) के रूप में:

अभिकथन A : किसी संगठन में मानवीय पक्ष की उपेक्षा टेलरिज्म की एक मुख्य आलोचना रही है।

कारण R : टेलर और उसके अनुयायियों ने संगठन को यंत्रवादिता के नज़रिए से देखा।

उपरोक्त कथन के आलोक में, नीचे दिए गए विकल्पों में से सबसे उपयुक्त उत्तर का चयन कीजिए।

- (1) A और R दोनों सही हैं और R, A की सही व्याख्या है
- (2) A और R दोनों सही हैं, लेकिन R, A की सही व्याख्या नहीं है
- (3) A सही है लेकिन R सही नहीं है
- (4) A सही नहीं है लेकिन R सही है

1[Option ID=5493]

2[Option ID=5494]

3[Option ID=5495]

4[Option ID=5496]

Sl. No.56

QBID:13546831

Sole proprietorship is most suitable for

- (1) Small scale concern
- (2) Large scale concern
- (3) Medium scale concern
- (4) Person who wants to share profits

एकल स्वामित्व सर्वाधिक उपयुक्त होता है:

- (1) लघु पैमाने का उद्योग के लिए
- (2) बड़े पैमाने का उद्योग के लिए
- (3) मध्यम पैमाने का उद्योग के लिए
- (4) वह व्यक्ति जो लाभ का हिस्सा प्राप्त करना चाहता है उसके लिए

1[Option ID=5497]

2[Option ID=5498]

3[Option ID=5499]

4[Option ID=5500]

Sl. No.57

QBID:13546832

Matrix organisation refers to a term of

- (1) Organisation where authority and responsibility co exist.
- (2) Organisation in which two or more basic types of departmentation are combined.
- (3) Organisation where events are mathematically arranged in columns and rows.
- (4) None of these

आव्यूह (मैट्रिक्स) संगठन ऐसे पद को संदर्भित करता है -

- (1) संगठन जहाँ प्राधिकार तथा दायित्व सह-अस्तित्व में हैं ।
- (2) संगठन जहाँ दो या दो से अधिक मूल प्रकार के विभागों का संयोजन है ।
- (3) संगठन जहाँ परिघटनाओं गणितीय रूप से स्तंभों तथा पंक्तियों में व्यवस्थित किया हो
- (4) इनमें से कोई नहीं

1[Option ID=5501]

2[Option ID=5502]

3[Option ID=5503]

4[Option ID=5504]

Sl. No.58

QBID:13546833

Organisation theory deals with

- (1) Industrial Relations
- (2) Incentives and wages policy
- (3) Structure of an organisation
- (4) Forms of business organisation

संगठन सिद्धांत _____ में व्यवहार करती है ।

- (1) औद्योगीय संबंध
- (2) प्रोत्साहन तथा मज़दूरी की नीति
- (3) किसी संगठन की संरचना
- (4) व्यापार संगठन के स्वरूप

1[Option ID=5505]

2[Option ID=5506]

3[Option ID=5507]

4[Option ID=5508]

LEARNING
MANTRAS

Sl. No.59

QBID:13546834

The scale of Goods Act, was enacted on :

- (1) 15th February, 1930
- (2) 15th March, 1930
- (3) 15th April, 1930
- (4) 15th January, 1930

माल विक्रय अधिनियम कब लागू किया गया था?

- (1) 15 फरवरी, 1930
- (2) 15 मार्च, 1930
- (3) 15 अप्रैल, 1930
- (4) 15 जनवरी, 1930

1[Option ID=5509]

2[Option ID=5510]

3[Option ID=5511]

4[Option ID=5512]

Sl. No.60

QBID:13546835

Section 28 to 44 D of the Income Tax Act, 1961 is related to

- (1) Income from House Property
- (2) Income from Salary
- (3) Income from Capital Gain
- (4) Profits and Gains from Business or Profession

आयकर अधिनियम, 1961 की धारा 28 से 44D किससे संबंधित है ?

- (1) गृह संपदा द्वारा आय
- (2) वेतन द्वारा आय
- (3) पूँजी लाभ द्वारा आय
- (4) व्यापार या व्यवसाय द्वारा लाभ तथा प्राप्ति

1[Option ID=5513]

2[Option ID=5514]

3[Option ID=5515]

4[Option ID=5516]

Sl. No.61

QBID:13546836

If an asset is put to use for less than 180 days in the previous year, the depreciation is charged at which rate of the following as per Income tax Act ?

- (1) 30%
- (2) 50%
- (3) 25%
- (4) Nil

यदि किसी परिसम्पत्ति को 180 दिन से कम अवधि के लिए गत वर्ष में प्रयुक्त किया गया है, तो आयकर अधिनियम के अनुसार मूल्यहास की किस दर के हिसाब से लिया जाएगा?

- (1) 30%
- (2) 50%
- (3) 25%
- (4) शून्य

1[Option ID=5517]

2[Option ID=5518]

3[Option ID=5519]

4[Option ID=5520]

Sl. No.62

QBID:13546837

LEARNING
MANTRAS

Calculate the Gross Annual Value from the following details :

Municipal value : Rs. 45,000

Fair Rental value : Rs. 50,000

Standard Rental value : Rs. 48,000

Actual Rental value : Rs. 42,000

- (1) Rs. 50,000
- (2) Rs. 48,000
- (3) Rs. 45,000
- (4) Rs. 42,000

नीचे दिए गए विवरण से सकल वार्षिक मूल्य की गणना करें ।

1. म्यूनिसिपल मूल्य : ₹. 45,000
 2. उचित किराया मूल्य : ₹. 50,000
 3. मानक किराया मूल्य : ₹. 48,000
 4. वास्तविक किराया मूल्य : ₹. 42,000
- (1) ₹. 50,000
 - (2) ₹. 48,000
 - (3) ₹. 45,000
 - (4) ₹. 42,000



- 1[Option ID=5521]
2[Option ID=5522]
3[Option ID=5523]
4[Option ID=5524]

Sl. No.63

QBID:13546838

Match List - I with List - II

List - I (Head of Income)		List - II (Part of the Head)	
A	House Property	I	Sale of Bond
B	Salary	II	Car Facility
C	Profits and Gains from Business and Profession	III	Annual value
D	Capital Gain	IV	Income from Filing of Returns

Choose the correct answer from the options given below :

- (1) A-I, B-II, C-III, D-IV

(2) A-III, B-IV, C-II, D-I

(3) A-III, B-II, C-IV, D-I

(4) A-IV, B-III, C-II, D-I

सूची - I के साथ सूची - II का मिलान कीजिए

सूची - I (आय का स्रोत)		सूची - II (स्रोत के भाग)	
A	गृह संपदा	I	बांड का विक्रय
B	वेतन	II	कार की सुविधा
C	व्यापार तथा व्यवसाय द्वारा मिलने वाला लाभ	III	वार्षिक मूल्य
D	पूँजी लाभ	IV	रिटर्न भरने से होने वाली आय

नीचे दिए गए विकल्पों में से सही उत्तर का चयन कीजिए:

(1) A-I, B-II, C-III, D-IV

(2) A-III, B-IV, C-II, D-I

(3) A-III, B-II, C-IV, D-I

(4) A-IV, B-III, C-II, D-I

1[Option ID=5525]

2[Option ID=5526]

3[Option ID=5527]

4[Option ID=5528]

Sl. No.64

QBID:13546839

Which of the following is not applicable to responsibility accounting ?

(1) Accounting centre

(2) Cost centre

(3) Investment centre

(4) Profit centre

निम्न में से कौन-सा दायित्व लेखांकन के लिए लागू नहीं होता?

(1) लेखांकन केन्द्र

(2) लागत केन्द्र

(3) निवेश केन्द्र

(4) लाभ केन्द्र

1[Option ID=5529]

2[Option ID=5530]

3[Option ID=5531]

4[Option ID=5532]

Sl. No.65

QBID:13546840

The main difference between marginal costing and absorption costing lies in the treatment of which of the following ?

- (1) Direct cost
- (2) Fixed overhead
- (3) Variable overhead
- (4) Semi-variable overhead

सीमांत लागत निर्धारण तथा समायोजन लागत निर्धारण में मुख्य अंतर निम्न में किसके निरूपण से होता है?

- (1) प्रत्यक्ष लागत
- (2) सावधि उपरिव्यय
- (3) परिवर्ती उपरिव्यय
- (4) अर्ध-परिवर्ती उपरिव्यय

1[Option ID=5537]

2[Option ID=5538]

3[Option ID=5539]

4[Option ID=5540]

Sl. No.66

QBID:13546841

Match List - I with List - II

List - I (Event)		List - II (Results)	
A	Reducing capital	I	Contribution
B	Sales > Variable cost	II	Reorganisation
C	Sales > Break even sales	III	Absorption
D	Take-over of firm	IV	IRDA

Choose the correct answer from the options given below :

- (1) A-I, B-II, C-III, D-IV
- (2) A-II, B-I, C-III, D-IV
- (3) A-II, B-I, C-IV, D-III
- (4) A-IV, B-I, C-II, D-III

सूची I के साथ सूची II का मिलान कीजिए

सूची - I (परिघटना)		सूची - II (परिणाम)	
A	घटती हुई पूँजी	I	अंशदान
B	विक्रय > परिवर्ती लागत	II	पुनर्संगठन
C	विक्रय > लाभ-अलाभ विक्रय	III	समायोजन/आमेलन
D	फर्म का अधिग्रहण	IV	सुरक्षा की सीमा

नीचे दिए गए विकल्पों में से सही उत्तर का चयन कीजिए:

- (1) A-I, B-II, C-III, D-IV
- (2) A-II, B-I, C-III, D-IV
- (3) A-II, B-I, C-IV, D-III

(4) A-IV, B-I, C-II, D-III

- 1[Option ID=5541]
2[Option ID=5542]
3[Option ID=5543]
4[Option ID=5544]

Sl. No.67

QBID:13546842

Internal Auditor is appointed and removed by the

- (1) Management
- (2) Share holders
- (3) Government
- (4) C.A.G.

आंतरिक लेखापरीक्षक को किसके द्वारा नियुक्त किया या हटाया जा सकता है।

- (1) प्रबंधन
- (2) शेयर धारक
- (3) सरकार
- (4) सी.ए.जी.

- 1[Option ID=5545]
2[Option ID=5546]
3[Option ID=5547]
4[Option ID=5548]

Sl. No.68

QBID:13546843

Detection of errors and fraud in audit is :

- (1) Primary objective
- (2) Secondary objective
- (3) Specific objective
- (4) Non-relevant objective

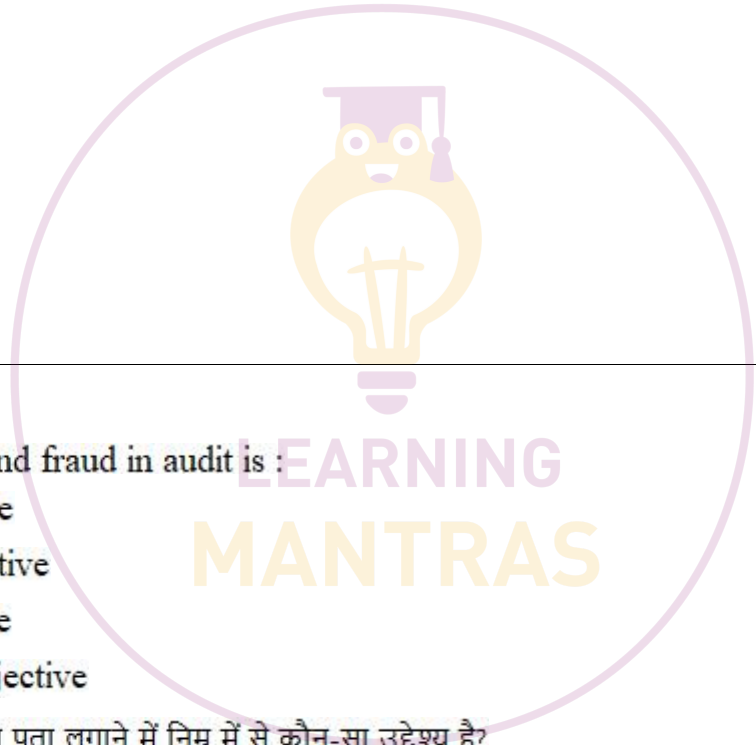
अकेक्षण में त्रुटि एवं धोखे का पता लगाने में निम्न में से कौन-सा उद्देश्य है?

- (1) मुख्य उद्देश्य
- (2) गौण उद्देश्य
- (3) विशिष्ट उद्देश्य
- (4) अप्रासंगिक उद्देश्य

- 1[Option ID=5549]
2[Option ID=5550]
3[Option ID=5551]
4[Option ID=5552]

Sl. No.69

QBID:13546844



The objective of the transportation problem is to :

- A. Maximise profit
- B. Minimise profit
- C. Neither Maximise profit nor Minimise profit
- D. Maximising losses

Choose the correct answer from the options given below :

- (1) A and C
- (2) B and D
- (3) A and B
- (4) A, B and D

परिवहन समस्या के उद्देश्य हैं :

- A. लाभ को अधिकतम बनाना
- B. लागतों का न्यूनीकरण
- C. न तो लाभ अधिकतम बनाना, न ही लाभ का न्यूनीकरण करना
- D. हानि को अधिकतम बनाना

नीचे दिए गए विकल्पों में से सबसे उपयुक्त उत्तर का चयन कीजिए:

- (1) A and C
- (2) B and D
- (3) A and B
- (4) A, B and D



LEARNING
MANTRAS

- 1[Option ID=5553]
- 2[Option ID=5554]
- 3[Option ID=5555]
- 4[Option ID=5556]

Sl. No.70

QBID:13546845

Under Annuity Due, payment is due at the

- (1) end of the time
- (2) beginning of the time
- (3) middle of the time
- (4) none of these

वार्षिकी देय के अंतर्गत, भुगतान की अदायगी कब देय होगी?

- (1) अवधि के अंत में
- (2) अवधि के प्रारम्भ में
- (3) अवधि के मध्य में
- (4) इनमें से कोई नहीं

- 1[Option ID=5557]
- 2[Option ID=5558]

3[Option ID=5559]

4[Option ID=5560]

Sl. No.71

QBID:13546846

The following is a short-run cost function

$$TC = 200 + 5Q + 2Q^2$$

Find out the optimum level of output when $AC = MC$

- (1) 5
- (2) 10
- (3) 20
- (4) 25

निम्नलिखित अल्पकाल लागत फलन है

$$TC = 200 + 5Q + 2Q^2$$

जब $AC = MC$ होतो उत्पादन के इष्टतम स्तर को ज्ञात कीजिए।

- (1) 5
- (2) 10
- (3) 20
- (4) 25

1[Option ID=5561]

2[Option ID=5562]

3[Option ID=5563]

4[Option ID=5564]

Sl. No.72

QBID:13546847

The mean monthly salary paid to 77 employees in a company was Rs. 78. The mean salary of 32 of them was Rs. 45 and of the other 25 was Rs. 82. What was the mean salary of the remaining ?

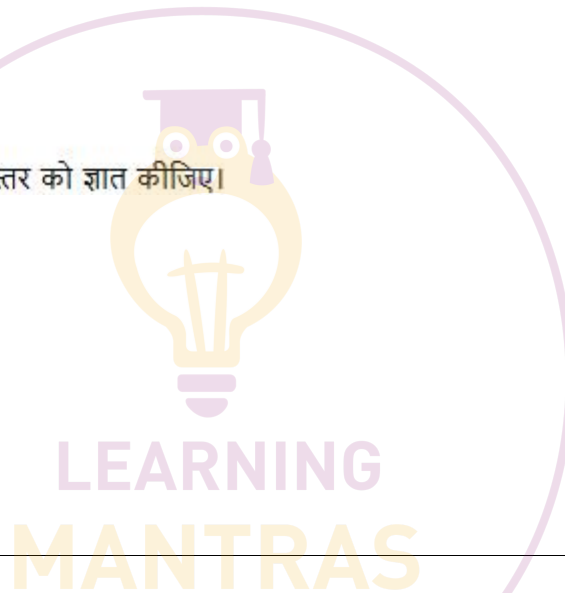
- (1) Rs. 124.8
- (2) Rs. 125.8
- (3) Rs. 126.8
- (4) Rs. 127.8

एक कंपनी के 77 कर्मचारियों को दिया गया माध्य मासिक वेतन रू. 78 था। उनमें से 32 कर्मचारियों की माध्य वेतन रू. 45 था और अन्य 25 कर्मचारियों का रू. 82 था। शेष बचे हुए कर्मचारियों का माध्य वेतन कितना था ?

- (1) Rs. 124.8
- (2) Rs. 125.8
- (3) Rs. 126.8
- (4) Rs. 127.8

1[Option ID=5565]

2[Option ID=5566]



3[Option ID=5567]

4[Option ID=5568]

Sl. No.73

QBID:13546848

The rank correlation coefficient between marks obtained by 10 students in English and Mathematics was found to be 0.5. Find the sum of squares of difference of ranks.

- (1) 81.5
- (2) 82.5
- (3) 83.5
- (4) 84.5

10 विद्यार्थियों के अंग्रेजी और गणित के प्राप्तांको के बीच कम सह सम्बन्ध गुणांक 0.5 पाया गया उनके क्रमों के बीच के अन्तर का वर्गों का योग ज्ञात कीजिए ।

- (1) 81.5
- (2) 82.5
- (3) 83.5
- (4) 84.5

1[Option ID=5569]

2[Option ID=5570]

3[Option ID=5571]

4[Option ID=5572]

Sl. No.74

QBID:13546849

Which of the following persons are not competent to contract ?

- (1) Persons of unsound mind
- (2) Person disqualified by law
- (3) Minors
- (4) All of these

निम्नलिखित में से कौन से लोग संविदा करने हेतु सक्षम नहीं है ?

- (1) अस्वस्थ मानस वाले लोग
- (2) कानून द्वारा अयोग्य घोषित किए गए लोग
- (3) नाबालिग
- (4) उपरोक्त सभी

1[Option ID=5573]

2[Option ID=5574]

3[Option ID=5575]

4[Option ID=5576]

Sl. No.75

QBID:13546850

When the consent of a party is obtained by coercion, undue influence, fraud or misrepresentation, the contract is :

- (1) Valid
- (2) Voidable

- (3) Void
- (4) Illegal

जब किसी एक पक्ष की सहमति उत्पीडन, अनुचित प्रभाव, धोखाघड़ी या मिथ्या निरूपण से प्राप्त की जाती है, तो वह संविदा है ।

- (1) वैद्य
- (2) अमान्यकरणीय
- (3) शून्य
- (4) गैरकानूनी

- 1[Option ID=5581]
- 2[Option ID=5582]
- 3[Option ID=5583]
- 4[Option ID=5584]

Sl. No.76

QBID:13546851

Given below are two statements :

Statement - I : Convenience sampling is a type of non-random sampling methods

Statements - II : Quota sampling is probabilistic sampling technique

In the light of the above statements, choose the correct answer from the options given below :

- (1) Both Statement - I and Statement - II are correct.
- (2) Both Statement - I and Statement - II are incorrect.
- (3) Statement - I is correct but Statement - II is incorrect.
- (4) Statement - I is incorrect but Statement - II is correct.

नीचे दो कथन दिए गए हैं:

कथन I : सुविधाजनक प्रतिदर्श अयाहच्छिक प्रतिदर्श विधियों का एक प्रकार है ।

कथन II : नियत मात्रात्मक प्रतिदर्श एक प्रायिकतात्मक प्रतिदर्श विधि है ।

उपरोक्त कथन के आलोक में, नीचे दिए गए विकल्पों में से सही उत्तर का चयन कीजिए ।

- (1) कथन I और II दोनों सत्य हैं
- (2) कथन I और II दोनों असत्य हैं
- (3) कथन I सत्य हैं, लेकिन कथन II असत्य है
- (4) कथन I असत्य है, लेकिन कथन II सत्य है

- 1[Option ID=5585]
- 2[Option ID=5586]
- 3[Option ID=5587]
- 4[Option ID=5588]

Sl. No.77

QBID:13546852

Match List - I with List - II

List - I (Statistical topic)		List - II (Method)	
A	Interpolation	I	Probabilistic
B	Regression coefficients	II	Newton
C	Sampling	III	Scatter Diagram
D	Correlation Analysis	IV	Deviations

Choose the correct answer from the options given below :

- (1) A-I, B-II, C-III, D-IV
- (2) A-II, B-IV, C-I, D-III
- (3) A-II, B-I, C-IV, D-III
- (4) A-IV, B-III-, C-II, D-I

सूची I के साथ सूची II का मिलान कीजिए

सूची - I		सूची - II	
A	अन्वेषण	I	प्रायिकतात्मक
B	प्रतिगमन गुणांक	II	न्यूटन
C	प्रतिचयन	III	स्कैटर डायग्राम
D	सहसंबंध विशलेषण	IV	विचलन

नीचे दिए गए विकल्पों में से सही उत्तर का चयन कीजिए:

- (1) A-I, B-II, C-III, D-IV
- (2) A-II, B-IV, C-I, D-III
- (3) A-II, B-I, C-IV, D-III
- (4) A-IV, B-III-, C-II, D-I

1[Option ID=5589]

2[Option ID=5590]

3[Option ID=5591]

4[Option ID=5592]

Sl. No.78

QBID:13546853

The total area of a normal distribution between average value ± 1.96 of standard deviation is :

- (1) 95.45%
- (2) 95%
- (3) 99%
- (4) 68.34%

मानक विचलन के औसत मूल्य ± 1.96 के मध्य सामान्य बंटन का सम्पूर्ण क्षेत्रफल है

- (1) 95.45%
- (2) 95%
- (3) 99%

(4) 68.34%

1[Option ID=5593]

2[Option ID=5594]

3[Option ID=5595]

4[Option ID=5596]

Sl. No.79

QBID:13546854

Which formula may be used for calculation of coefficient of correlation ?

(1) $x = byx \times bxy$

(2) $r = \sqrt{byx \times bxy}$

(3) $r = \sqrt{byx + bxy}$

(4) $x = byx + bxy$

सहसंबंध गुणांक की गणना करने के लिए किस सूत्र का प्रयोग किया जा सकता है ?

(1) $x = byx \times bxy$

(2) $r = \sqrt{byx \times bxy}$

(3) $r = \sqrt{byx + bxy}$

(4) $x = byx + bxy$

1[Option ID=5597]

2[Option ID=5598]

3[Option ID=5599]

4[Option ID=5600]

Sl. No.80

QBID:13546855

Which of the following is not a property of standard deviation?

(1) $\sigma_x + k = \sigma_x + k$

(2) $\sigma_x + k = \sigma_x$

(3) $\sigma_x \times k = k \times \sigma_x$

(4) $\sigma_x \div k = \frac{\sigma_x}{k}$

निम्नलिखित में से कौन-सी एक मानक विचलन की विशेषता नहीं है ?

(1) $\sigma_x + k = \sigma_x + k$

(2) $\sigma_x + k = \sigma_x$

(3) $\sigma_x \times k = k \times \sigma_x$

(4)

LEARNING
MANTRAS

$$\sigma_x \div k = \frac{\sigma_x}{k}$$

1[Option ID=5601]

2[Option ID=5602]

3[Option ID=5603]

4[Option ID=5604]

Sl. No.81

QBID:13546856

In Indian context, the emphasis on Import Substitution often run counter to

-
- (1) the objective of managerial development
 - (2) the objective of sports development
 - (3) the objective of skill development
 - (4) the objective of technology development

भारत के संदर्भ में, आयात स्थानापत्र पर बल, प्रायः निम्न में से किन उद्देश्यों का सामना करने हेतु संचालित होते हैं ?

- (1) प्रबंधन के विकास का उद्देश्य
- (2) खेलकूद के विकास का उद्देश्य
- (3) कौशल विकास का उद्देश्य
- (4) तकनीकी विकास का उद्देश्य

1[Option ID=5605]

2[Option ID=5606]

3[Option ID=5607]

4[Option ID=5608]

Sl. No.82

QBID:13546857

Reasons for Adopting Globalization.

- A. Profit advantage
- B. Growth Opportunity
- C. Domestic Market Constraints
- D. Spin off benefits

Choose the correct answer from the options given below :

- (1) A and B
- (2) C and D
- (3) A, B and D
- (4) All of these

LEARNING
MANTRAS

वैश्वीकरण को अपनाने के कारण है:

- A. लाभनीयता
- B. वृद्धि के अवसर
- C. घरेलू बाजार के दबाव
- D. आकस्मिक परिणाम से लाभ

नीचे दिए गए विकल्पों में से सबसे उपयुक्त उत्तर का चयन कीजिए:

- (1) A तथा B
- (2) C तथा D
- (3) A, B, तथा D
- (4) सभी

1[Option ID=5609]

2[Option ID=5610]

3[Option ID=5611]

4[Option ID=5612]

Sl. No.83

QBID:13546858

Arrange the following acts in the order in which they came into force.

- A. The Monopolies Restrictive Trade Practice Act
- B. Indian Contract Act
- C. The Sale of Goods Act
- D. The Foreign Exchange Management Act

Choose the correct answer from the options given below:

- (1) B, C, A, D
- (2) C, A, D, B
- (3) A, B, C, D
- (4) D, C, B, A

निम्नलिखित अधिनियमों को उनके लागू होने के क्रम में व्यवस्थित करें।

- A. एकाधिकार तथा अवरोधक व्यापारिक व्यवहार अधिनियम
- B. भारतीय संविदा अधिनियम
- C. माल विक्रय अधिनियम
- D. विदेशी मुद्रा प्रबंध अधिनियम

नीचे दिए गए विकल्पों में से सबसे उपयुक्त उत्तर का चयन कीजिए:

- (1) B, C, A, D
- (2) C, A, D, B
- (3) A, B, C, D
- (4) D, C, B, A

1[Option ID=5613]

- 2[Option ID=5614]
3[Option ID=5615]
4[Option ID=5616]

Sl. No.84

QBID:13546859

Given below are two statements : One is labelled as Assertion A and the other is labelled as Reason R.

Assertion A : Industrial policy 1991 initiated liberalisation of Indian economy.

Reason R : Industrial growth was very slow before 1991.

In the light of the above statements, choose the correct answer from the options given below:

- (1) Both A and R are true and R is the correct explanation of A.
- (2) Both A and R are true but R is NOT the correct explanation of A.
- (3) A is true but R is false.
- (4) A is false but R is true.

नीचे दो कथन दिए गए हैं:

कथन I : औद्योगिक नीति 1991 (Assertion A) में भारतीय अर्थव्यवस्था में उदारीकरण की पहल की दूसरा कथन (Reason R) के रूप में हैं।

कथन II : 1991 से पहले औद्योगिक वृद्धि बहुत धीमी थी ।

उपरोक्त कथन के आलोक में, नीचे दिए गए विकल्पों में से सही उत्तर का चयन कीजिए ।

- (1) कथन I और II दोनों सत्य हैं लेकिन R, A की सही व्यवस्था है
- (2) कथन I और II दोनों सत्य हैं लेकिन R, A की सही व्याख्या नहीं है
- (3) कथन I सत्य है, लेकिन कथन II असत्य है
- (4) कथन I असत्य है, लेकिन कथन II सत्य है

- 1[Option ID=5617]
2[Option ID=5618]
3[Option ID=5619]
4[Option ID=5620]

Sl. No.85

QBID:13546860

Which of the following is not an objective of planning ?

- (1) Economic growth
- (2) Setting of Heavy Industry
- (3) Modernisation
- (4) None of these

निम्नलिखित में से कौन सा नियोजन का उद्देश्य नहीं है ?

- (1) आर्थिक वृद्धि
- (2) भारी उद्योग की स्थापना

- (3) आधुनिकीकरण
(4) इनमें से कोई नहीं

1[Option ID=5625]
2[Option ID=5626]
3[Option ID=5627]
4[Option ID=5628]

Sl. No.86
QBID:13546861

Given below are two statements : One is labelled as Assertion A and the other is labelled as Reason R.

Assertion A : Ratio analysis is one of the tools employed to know the financial health of a concern.

Reason R : Ratio analysis is not the only technique available to take investment decision.

In the light of the above statements, choose the correct answer from the options given below:

- (1) Both A and R are true and R is the correct explanation of A.
(2) Both A and R are true but R is NOT the correct explanation of A.
(3) A is true but R is false.
(4) A is false but R is true.

नीचे दो कथन दिए गए हैं: एक अभिकथन Assertion A तथा दूसरा का कारण Reason R के रूप में लिखित है

अभिकथन A : किसी भी संस्था के वित्त की स्थिति जानने के लिए उपयोग की जाने वाली विधियों में से अनुपात विश्लेषण एक विधि है ।

कारण R : निवेशगत निर्णय लेने के लिए केवल अनुपात विश्लेषण ही एक उपलब्ध विधि नहीं है ।

उपरोक्त कथन के आलोक में, नीचे दिए गए विकल्पों में से सही उत्तर का चयन कीजिए ।

- (1) A और R दोनों सही हैं तथा R, A की सही व्याख्या है
(2) A और R दोनों सही हैं, परन्तु R, A की सही व्याख्या नहीं है
(3) A सही है परन्तु R गलत है
(4) A गलत है परन्तु R सही है

1[Option ID=5629]
2[Option ID=5630]
3[Option ID=5631]
4[Option ID=5632]

Sl. No.87
QBID:13546862

Working Capital = 60,000

Current Ratio = 2.5 : 1

Liquid Ratio = 1.5 : 1

What is the value of stock ?

- (1) 60,000
- (2) 1,00,000
- (3) 20,000
- (4) 40,000

कार्यशील पूजी = 60,000

चालू अनुपात = 2.5 : 1

तरल अनुपात = 1.5 : 1

स्कन्ध का मूल्य क्या होगा ?

- (1) 60,000
- (2) 1,00,000
- (3) 20,000
- (4) 40,000

- 1[Option ID=5633]
- 2[Option ID=5634]
- 3[Option ID=5635]
- 4[Option ID=5636]



LEARNING
MANTRAS

Sl. No.88

QBID:13546863

Which of the following are the qualitative characteristics of financial statement ?

- A. Relevance
- B. Reliability
- C. Comparability
- D. Understandability

Choose the correct answer from the options given below :

- (1) A, C and D
- (2) B, C and D
- (3) B and C
- (4) A, B, C and D

वित्तीय विवरण की गुणात्मक विशेषताएँ निम्नलिखित में से कौन सी है ?

- A. प्रासंगिकता
- B. विश्वसनीयता
- C. तुलनात्मकता
- D. बोधगम्यता

नीचे दिए गए विकल्पों में से सबसे उपयुक्त उत्तर का चयन कीजिए ।

- (1) A, C तथा D
- (2) B, C तथा D
- (3) B तथा C
- (4) A, B, C तथा D

1[Option ID=5637]

2[Option ID=5638]

3[Option ID=5639]

4[Option ID=5640]

Sl. No.89

QBID:13546864

Given below are two statements : One is labelled as Assertion A and the other is labelled as Reason R.

Assertion A : Under diminishing balance method of depreciation, the charge for depreciation keeps on diminishing year after year in all subsequent years.

Reason R : Under diminishing balance method, the rate per cent at which depreciation is written off goes on diminishing from year to year.

In the light of the above statements, choose the correct answer from the options given below:

- (1) Both A and R are correct and R is the correct explanation of A.
- (2) Both A and R are correct but R is NOT the correct explanation of A.
- (3) A is correct but R is incorrect.
- (4) A is incorrect but R is correct.

नीचे दो कथन दिए गए हैं: एक अभिकथन (Assertion A) के रूप में लिखित है तो दूसरा उसके कारण (Reason R) के रूप में:

अभिकथन A : हास की हासमान सतुलन विधि के अन्तर्गत, हास के लिए प्रभाव साल दर साल आने वाले परिवर्ती वर्षों में घटती जाती है ।

कारण R : हास की हासमान सन्तुलन विधि के अन्तर्गत, जिस दर प्रतिशत पर हास का अवलेखन किया जाता है, वर्ष दर वर्ष कम होती जाती है ।

उपरोक्त कथन के आलोक में, नीचे दिए गए विकल्पों में से सही उत्तर का चयन कीजिए ।

- (1) A और R दोनों सत्य हैं और R, A की सही व्याख्या है
- (2) A और R दोनों सत्य हैं, लेकिन R, A की सही व्याख्या नहीं है
- (3) A सत्य है, लेकिन R असत्य है

(4) A असत्य है लेकिन R सत्य है

- 1[Option ID=5641]
- 2[Option ID=5642]
- 3[Option ID=5643]
- 4[Option ID=5644]

Sl. No.90

QBID:13546865

In case of Installment payment system the ownership is transferred from the vendor to the purchasee:

- (1) Immediately
- (2) On the payment of last instalment
- (3) On the Recovery of goods
- (4) On the payment of Insurance premium

किसी क्रिस्त भुगतान प्रणाली में विक्रेता द्वारा खरीदार को स्वामित्व का हस्तांतरण हो जाता है ।

- (1) तत्काल
- (2) अंतिम किश्त के भुगतान पर
- (3) माल की प्राप्ति पर
- (4) बीमा प्रीमियम के भुगतान पर

- 1[Option ID=5645]
- 2[Option ID=5646]
- 3[Option ID=5647]
- 4[Option ID=5648]

Sl. No.91

QBID:13546866

On the admission of a new partner, the balance of the profit and loss adjustment account should be transferred to the capital account of

- (1) All partners in their new profit-sharing ratio
- (2) Old partners in their old profit-sharing ratio
- (3) Old partners in their new profit sharing ratio
- (4) Old partners in their sacrificing ratio

एक नये सहभागी की प्रविष्टि होने पर, लाभ तथा हानि समायोजन लेखे को किसके पूँजी लेखे में हस्तांतरित किया जाना चाहिए ?

- (1) सभी सहभागियों को उनके नये लाभ-सहभाजन के अनुपात में ।
- (2) पुराने सहभागियों को उनके पुराने लाभ-सहभाजन के अनुपात में ।
- (3) पुराने सहभागियों को उनके नये लाभ-सहभाजन के अनुपात में ।
- (4) पुराने सहभागियों को उनके उत्सर्जनकारी के अनुपात में ।

- 1[Option ID=5649]
- 2[Option ID=5650]
- 3[Option ID=5651]
- 4[Option ID=5652]

Sl. No.92

QBID:13546867

Which one is not the main objective of fiscal policy out of the following ?

- (1) To promote price stability
- (2) To minimize the inequalities of Income and Wealth
- (3) To promote employment opportunities
- (4) To increase liquidity in the economy

निम्नलिखित में से कौन सा एक राजकोषीय नीति का मुख्य उद्देश्य नहीं है ?

- (1) मूल्य स्थिरता को प्रोत्साहित करना ।
- (2) आय व धन की विषमता को कम करना ।
- (3) रोजगार के अवसरों को प्रोत्साहित करना ।
- (4) अर्थव्यवस्था में तरलता में वृद्धि लाना।

1[Option ID=5653]

2[Option ID=5654]

3[Option ID=5655]

4[Option ID=5656]

Sl. No.93

QBID:13546868

Match List - I with List - II

List - I (Aggregate)		List - II (Formula)	
A	Personal Income	I	Private Income - Undistributed Corporate Profit - Profit taxes
B	Disposable Income	II	Personal Income - Direct Taxes
C	NNP at factor cost	III	NNP at market price - Indirect taxes + Subsidies
D	NNP	IV	GNP - Depreciation

Choose the correct answer from the options given below :

- (1) A-IV, B-I, C-III, D-II
- (2) A-III, B-IV, C-II, D-I
- (3) A-I, B-II, C-III, D-IV
- (4) A-I, B-III, C-II, D-IV

सूची I के साथ सूची II का मिलान कीजिए

सूची - I (समग्र)		सूची - II (सूत्र)	
A	व्यक्तिगत आय	I	निजी आय - अवितरित कॉर्पोरेट लाभ - लाभ कर
B	प्रयोज्य आय	II	व्यक्तिगत आय - प्रत्यक्ष कर
C	साधन लागत पर निवल राष्ट्रीय उत्पाद	III	बाजार मूल्य पर निवल राष्ट्रीय उत्पाद अप्रत्यक्ष पर सबसिडी
D	निवल राष्ट्रीय उत्पाद	IV	जी.एन.पी. - हास

नीचे दिए गए विकल्पों में से सही उत्तर का चयन कीजिए:

- (1) A-IV, B-I, C-III, D-II
- (2) A-III, B-IV, C-II, D-I
- (3) A-I, B-II, C-III, D-IV
- (4) A-I, B-III, C-II, D-IV

- 1[Option ID=5657]
2[Option ID=5658]
3[Option ID=5659]
4[Option ID=5660]

Sl. No.94
QBID:13546869

Given below are two statements : One is labelled as Assertion A and the other is labelled as Reason R.

Assertion A : Industrialisation of an economy is considered synonymous with growth.

Reason R : The transfer of resources from agriculture to industry may be capital or labour or both.

In the light of the above statements, choose the correct answer from the options given below:

- (1) Both A and R are true and R is the correct explanation of A.
- (2) Both A and R are true but R is NOT the correct explanation of A.
- (3) A is true but R is false.
- (4) A is false but R is true.

नीचे दो कथन दिए गए हैं: एक अभिकथन (Assertion A) के रूप में लिखित है तो दूसरा उसके कारण (Reason R) के रूप में:

अभिकथन A : किसी अर्थव्यवस्था के औद्योगिकरण को इसकी वृद्धि का पर्याय माना जाता है ।

कारण R : कृषि के उद्योग की तरफ संसाधनों का हस्तान्तरण पूंजीगत श्रमगत या फिर दोनों ही हो सकता है ।

उपरोक्त कथन के आलोक में, नीचे दिए गए विकल्पों में से सही उत्तर का चयन कीजिए ।

- (1)

A और R दोनों सत्य हैं और R, A की सही व्याख्या है

- (2) A और R दोनों सत्य हैं, लेकिन R, A की सही व्याख्या नहीं है
(3) A सत्य है लेकिन R असत्य है
(4) A असत्य है लेकिन R सत्य है

1[Option ID=5661]

2[Option ID=5662]

3[Option ID=5663]

4[Option ID=5664]

Sl. No.95

QBID:13546870

Match List - I with List - II

List - I (Institution / Act)		List - II (Year of Establishment)	
A	Unit Trust of India	I	1921
B	Imperial Bank of India	II	1956
C	Banking Regulation Act	III	1964
D	LIC	IV	1949

Choose the correct answer from the options given below :

- (1) A-III, B-IV, C-I, D-II
(2) A-IV, B-III, C-II, D-I
(3) A-III, B-I, C-IV, D-II
(4) A-I, B-II, C-III, D-IV

सूची I के साथ सूची II का मिलान कीजिए

सूची - I (संस्था / अधिनियम)		सूची - II (स्थापना का वर्ष)	
A	यूनिट ट्रस्ट ऑफ इंडिया	I	1921
B	इम्पीरियल बैंक ऑफ इंडिया	II	1956
C	बैंकिंग नियामक अधिनियम	III	1964
D	जीवन बीमा निगम	IV	1949

नीचे दिए गए विकल्पों में से सही उत्तर का चयन कीजिए:

- (1) A-III, B-IV, C-I, D-II
(2) A-IV, B-III, C-II, D-I
(3) A-III, B-I, C-IV, D-II
(4) A-I, B-II, C-III, D-IV

1[Option ID=5669]

2[Option ID=5670]

3[Option ID=5671]

4[Option ID=5672]

Sl. No.96

QBID:13546871

Match List - I with List - II

List - I (Financial Institutions / Events)		List - II (Year of Establishment / Occurance)	
A	Reserve Bank of India	I	1948
B	Nationalisation of 14 major Commercial Banks	II	1935
C	Nationalisation of 6 Commercial Banks	III	1969
D	IFCI	IV	1980

Choose the correct answer from the options given below :

- (1) A-II, B-IV, C-III, D-I
- (2) A-I, B-II, C-III, D-IV
- (3) A-II, B-I, C-III, D-IV
- (4) A-II, B-III, C-IV, D-I

सूची I के साथ सूची II का मिलान कीजिए

सूची - I (वित्तीय संस्थाएँ / परिघटनाएँ)		सूची - II (स्थापना वर्ष / घटित होना)	
A	भारतीय रिजर्व बैंक	I	1948
B	14 मुख्य वाणिज्यिक बैंकों का राष्ट्रीयकरण	II	1935
C	6 वाणिज्यिक बैंकों का राष्ट्रीयकरण	III	1969
D	आई.एफ.सी.आई.	IV	1980

नीचे दिए गए विकल्पों में से सही उत्तर का चयन कीजिए:

- (1) A-II, B-IV, C-III, D-I
- (2) A-I, B-II, C-III, D-IV
- (3) A-II, B-I, C-III, D-IV
- (4) A-II, B-III, C-IV, D-I

1[Option ID=5673]

2[Option ID=5674]

3[Option ID=5675]

4[Option ID=5676]

Sl. No.97

QBID:13546872

RBI Notifies CRR under section _____ of Banking Regulation Act, 1949.

- (1) 24
- (2) 36
- (3) 40
- (4) 42

भारतीय रिजर्व बैंक, बैंकिंग नियामक अधिनियम, 1949 की धारा _____ के अंतर्गत सी.आर.आर. की अधिसूचना देता है ।

- (1) 24
- (2) 36
- (3) 40
- (4) 42

1[Option ID=5677]

2[Option ID=5678]

3[Option ID=5679]

4[Option ID=5680]

Sl. No.98

QBID:13546873

Which of the following is not a negotiable Instrument ?

- (1) Pay order
- (2) Cheque
- (3) Bill of Exchange
- (4) Bank draft

निम्न में से कौन सा परक्राम्य प्रपत्र नहीं है ?

- (1) भुगतान आदेश
- (2) चेक
- (3) विनिमय पत्र
- (4) बैंक के ड्राफ्ट

1[Option ID=5681]

2[Option ID=5682]

3[Option ID=5683]

4[Option ID=5684]

Sl. No.99

QBID:13546874

In context to Information Technology and Communication, ISDN stands for _____

- (1) Integrated Security Digital Network
- (2) Integrated Services Digital Network
- (3) Integral Services Digital Number
- (4) Integral Security Digital Number

सूचना प्रौद्योगिकी और संचार के संदर्भ में आई.एस.डी.एन. का अर्थ है

- (1) इंटीग्रेटेड सिक््योरिटी डिजिटल नेटवर्क
- (2) इंटीग्रेटेड सर्विसेज डिजिटल नेटवर्क
- (3) इटिगरल सर्विसेज डिजिटल नंबर
- (4) इटिगरल सिक््योरिटी डिजिटल नंबर

1[Option ID=5685]

2[Option ID=5686]

3[Option ID=5687]

4[Option ID=5688]

Sl. No.100

QBID:13546875

Paperless office for modern business units focuses on :

- (1) No use of buildings and equipments
- (2) No use of human resources
- (3) Use of electronic mode for communication
- (4) More and more use of physical files

आधुनिक व्यापार इकाइयों के लिए कागज रहित कार्यालय पर केन्द्रित करते हैं ।

- (1) भवनों तथा उपकरणों का कोई प्रयोग नहीं करना ।
- (2) मानव संसाधन का कोई प्रयोग न करना ।
- (3) संचार के लिए इलैक्ट्रॉनिक माध्यम का प्रयोग ।
- (4) भौतिक(फिजिकल) फाइलों का अधिक से अधिक प्रयोग ।

1[Option ID=5689]

2[Option ID=5690]

3[Option ID=5691]

4[Option ID=5692]